

O. P. Tindal School

Holiday Homework (2022-23)

Class - III

Sub: - EVS

1) Fill in the blanks using the given words:

(Internet, mobile, PIN, electricity, pulley)

(i) A _____ is a wheel used to lift heavy loads.

(ii) We can talk to people anytime anywhere using a _____ phone.

(iii) Now windmills and waterwheels are used to make _____.

(iv) The short form of postal index number is _____.

(v) _____ is a network of connected computers.

2) Choose and write the correct word:-

(1) We can talk to anyone across the world using a _____.

a. telephone b. radio c. postbox

(ii) A landline phone is
a. fixed in one place b. can be carried
c. smart phone

(iii) Radio and television are:
a. email b. Internet c. mass communication

(iv) Watch and listen to songs.
a. radio b. television c. newspaper

Activity :- i) Make a list of all the things around you that have wheels.

Something like a cycle can have two or three different kinds of wheels. You can draw the wheels or paste pictures.

(ii) Collect and paste the pictures of different means of mass communication.

O.P. JINDAL SCHOOL PATRATU, RAMGARH

CLASS-3

Holiday Homework

Subject - English

1. Diwali is the festival of light, cleanliness and joy. Share your personal Diwali experiences through the medium of a paragraph. Give the heading of the paragraph

"My Diwali"

OR

Write a paragraph on the festival you like the most. (In five to six lines only)

Instructions:-

- (i) Use your classwork notebook only.
- (ii) Draw and colour one or two pictures related to the paragraph.
- (iii) Your handwriting and work should be neat and legible.

Holiday Home Work

Class:- III

Sub:- Mathematics

A. Complete the following:-

$2 \times 7 = \underline{\quad}$

$10 \times 6 = \underline{\quad}$

$5 \times 8 = \underline{\quad}$

$2 \times 8 = \underline{\quad}$

$3 \times 9 = \underline{\quad}$

B. Look at the patterns and complete them.

$3, 6, 9, \underline{\quad} \quad \underline{\quad} \quad \underline{\quad}$

$4, 8, 12, \underline{\quad} \quad \underline{\quad} \quad \underline{\quad}$

$5, 10, 15, \underline{\quad} \quad \underline{\quad} \quad \underline{\quad}$


C. Balance the scales:-

$1. \quad 600 \text{ g} + \underline{\quad} = 1000 \text{ g}$

$2. \quad 500 \text{ g} + \underline{\quad} = 1000 \text{ g}$

$3. \quad 150 \text{ g} + \underline{\quad} = 1000 \text{ g}$

Complete the multiplication tree



कक्षा :- III

कार्य-पत्रक

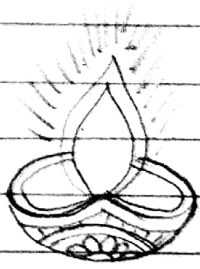
विषय :- हिंदी

स्तर :- एक


- निर्देश :-
- पुस्तक की लिखावट ही आदर्श लेखन का आधार है।
- समस्त लेखन-कार्य शुद्ध, सुंदर एवं सुस्पष्ट लिखावट में ही करें।

शीर्षक :- अभ्यास कार्य-पत्रक
(अवकाशकालीन)


1. चित्रों को देखकर उनसे संबंधित मुहावरे लिखें।




अंधीरा



आरसी



आस्तीन



ग्यारह

2. सही जोड़े मिलारें -

प्रशंसा

खुलंद

बिल्कुल

ईर्ष्या

अँची

तारीफ

अवश्य

कतई

जलन

ज़खर

(1)

3. निम्नलिखित वाक्यों में कुछ हरी-भरी सब्जियों के नाम छुपे हैं।
उन्हें ढूँढ कर लिखें और उनके चित्र भी बनाएँ।

- (क) अब भागो भी बारिश होने लगी है। _____
- (ख) मामू लीला मौसी कहाँ हैं? _____
- (ग) शीला के पास बैग नहीं है। _____
- (घ) रानी बोली-हमसे मत बोलो। _____
- (ङ) गोपाल कबूतर उड़ा दो। _____

4. शैटी को अलग-अलग जगहों पर अलग-अलग नाम से
पुकारा जाता है। कुछ और नाम पता करके लिखिए।

5. हम वहाँ पिसवाने आटा-चक्की पर जाते हैं। हम इन कामों
के लिए कहाँ जाते हैं?

- (क) आटा खरीदने - _____
- (ख) पंचर बनवाने - _____
- (ग) दूध खरीदने - _____
- (घ) जूते की मरम्मत करवाने - _____
- (ङ) सुराही खरीदने - _____
- (च) कॉपी किताब खरीदने - _____
- (छ) बाल-कटवाने - _____

Holidays H.W

Class III

Sub: Computer

1. Draw and colour any three of the following :-

1. CPU

2. Monitor

3. Printer

4. Joystick.

All write the usage of the above.